

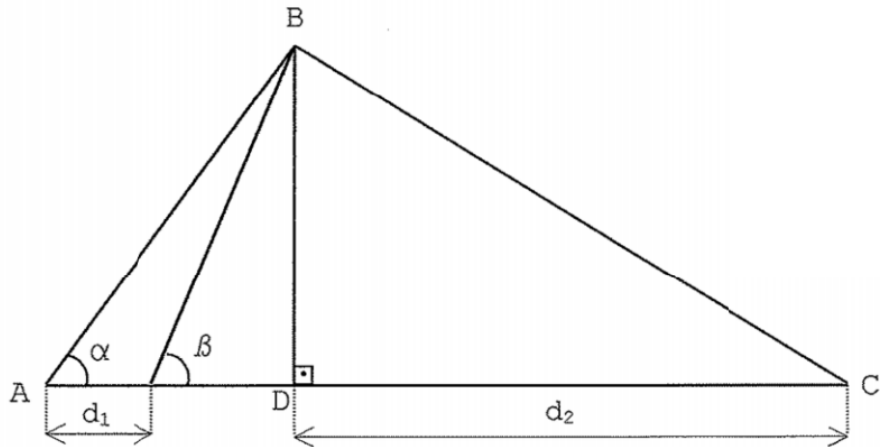
**Escola Naval 2005/2006**

**MARINHA DO BRASIL  
DIRETORIA DE ENSINO DA MARINHA**

***(PROCESSO SELETIVO DE ADMISSÃO À ESCOLA  
NAVAL / PSAEN-2005)***

**MATEMÁTICA**

1) Considere a figura abaixo:



A área do triângulo BDC é

(A)  $\frac{d_1 + d_2}{\cot g\alpha - \cot g\beta}$

(B)  $\frac{d_1 \cdot d_2}{2(\cot g\alpha + \cot g\beta)}$

(C)  $\frac{d_1 + d_2}{2(\cot g\alpha - \cot g\beta)}$

(D)  $\frac{d_1 \cdot d_2}{2\cot g\alpha - \cot g\beta}$

(E)  $\frac{d_1 \cdot d_2}{2(\cot g\alpha - \cot g\beta)}$

2) Os coeficientes dos três primeiros termos do desenvolvimento de  $\left(x^2 + \frac{1}{2x}\right)^n$  coincidem com os três primeiros termos de uma progressão aritmética (PA). O valor do 11º termo da PA é

(A) 27

(B) 29

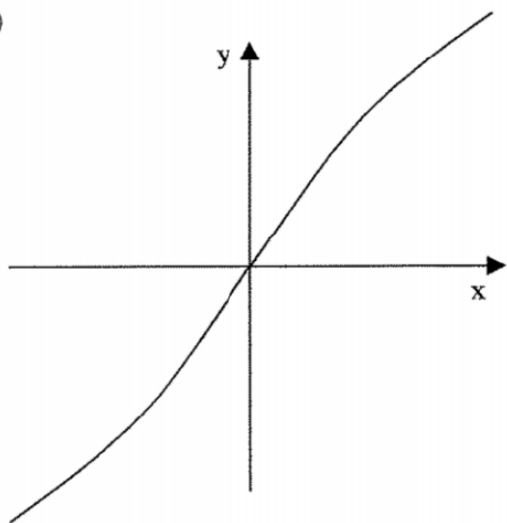
(C) 31

(D) 33

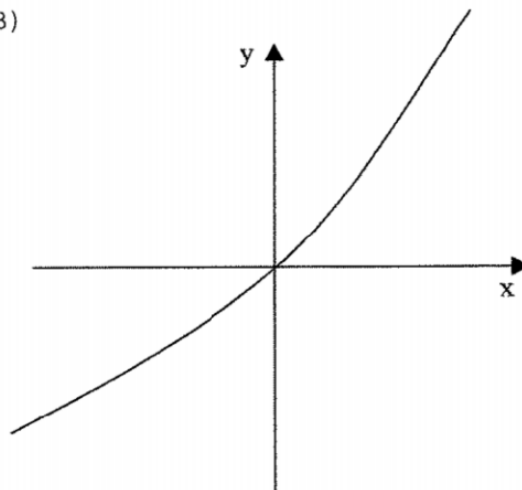
(E) 35

3) Dentre as opções abaixo, aquela que melhor representa o gráfico da função real de variável real  $f(x) = x + 2 \operatorname{arctg} x$  é

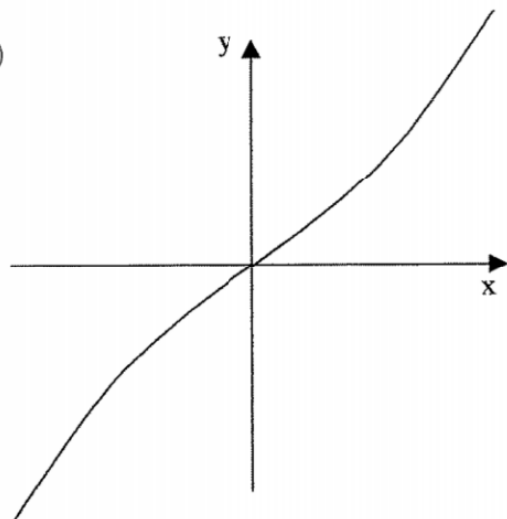
(A)



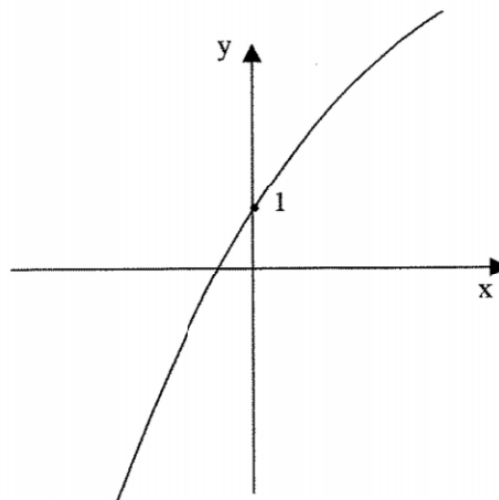
(B)



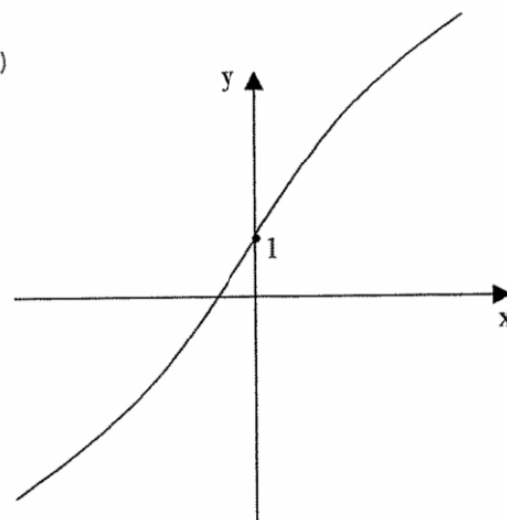
(C)



(D)



(E)



4) Seja  $\vec{w}$  um vetor unitário do  $\mathbb{R}^3$ , normal aos vetores  $\vec{u} = (-1, 1, 1)$  e  $\vec{v} = (0, -1, -1)$  e com 2ª coordenada positiva. Se  $\theta$  é o ângulo entre os vetores  $(\sqrt{2}\vec{w} + \vec{u})$  e  $(-\vec{v})$ ,  $0 < \theta < \frac{\pi}{2}$ , então  $\operatorname{cosec} 2\theta$  vale

(A)  $\frac{2\sqrt{6}}{5}$

(B)  $\frac{5\sqrt{6}}{12}$

(C)  $\frac{\sqrt{15}}{3}$

(D)  $\frac{\sqrt{10}}{2}$

(E)  $\frac{3\sqrt{6}}{2}$

5) Seja  $y=y(x)$  uma função real que satisfaz à equação  $8y - \left(\frac{x^6+2}{x^2}\right) = 0$ ,

$x \in \mathbb{R}_+^*$ . O valor de  $\int x^2 \sqrt{1 + \left(\frac{dy}{dx}\right)^2} dx$  é

(A)  $\frac{x^6}{12} + \frac{\ln|x|}{2} + c$

(B)  $-\frac{x^4}{8} + \frac{x^{-2}}{4} + c$

(C)  $-\frac{x^6}{12} - \ln|x| + c$

(D)  $\frac{-x^6}{12} - \frac{\ln|x|}{2} + c$

(E)  $\frac{x^4}{8} - \frac{x^{-2}}{4} + c$

6) Um recipiente cilíndrico que deve ter  $1\text{m}^3$  de volume vai ser construído nas oficinas do Arsenal de Marinha, para atender a um dos navios da MB. Na lateral e na tampa, será utilizado um material cujo preço é R\$ 1.000,00 por  $\text{m}^2$  e, no fundo, um material cujo preço é R\$ 2.000,00 por  $\text{m}^2$ . Que dimensões deve ter o recipiente, para que a MB tenha a menor despesa possível?

(A)  $\frac{1}{\sqrt[3]{3\pi}} \text{ m}$  e  $\frac{1}{3\pi^2} \text{ m}$

(B)  $\frac{1}{3\sqrt[3]{\pi}} \text{ m}$  e  $\frac{1}{9\pi\sqrt[3]{\pi^2}} \text{ m}$

(C)  $\frac{1}{\pi\sqrt[3]{3}} \text{ m}$  e  $\frac{1}{\sqrt[3]{9\pi^2}} \text{ m}$

(D)  $\frac{1}{\sqrt[3]{3\pi}} \text{ m}$  e  $\sqrt[3]{\frac{9}{\pi}} \text{ m}$

(E)  $\frac{1}{\sqrt[3]{3\pi}} \text{ m}$  e  $\frac{1}{\pi\sqrt[3]{9\pi^2}} \text{ m}$

7) O cálculo de  $\int \frac{e^{2x}}{1+e^{4x}} dx$  é igual à

(A)  $\frac{\ln|1+e^{4x}|}{4} + c$

(B)  $2 \operatorname{arctg} e^{2x} + c$

(C)  $\frac{\operatorname{arctg} e^{2x}}{4} + c$

(D)  $\frac{\ln|1+e^{4x}|}{4e^{2x}} + c$

(E)  $\frac{-\operatorname{arc} \operatorname{cotg} e^{2x}}{2} + c$

8) O conjunto de todos os números reais que satisfazem à desigualdade  $|1-2x|+|x+1|-|2x-3|>2$  é

(A)  $]-\infty, -\frac{7}{3}[ \cup ]1, \frac{3}{2}[ \cup ]5, +\infty[$

(B)  $]-\infty, -\frac{7}{3}[ \cup ]1, \frac{3}{2}[ \cup ]5, +\infty[$

(C)  $]-\infty, -5[ \cup ]\frac{3}{2}, +\infty[$

(D)  $]-\infty, -5[ \cup ]5, +\infty[$

(E)  $]-\infty, -5[ \cup ]1, +\infty[$

9) Seja A o menor inteiro pertencente ao domínio da função real, de variável real,  $f(x) = \frac{1}{\sqrt[4]{\frac{9}{16} - \left(\frac{4}{3}\right)^{(1-x)}}$ . Pode-se afirmar que

$\log_A 2\sqrt{2\sqrt{2}}$  pertence ao intervalo

(A)  $\left[\frac{1}{2}, 1\right]$

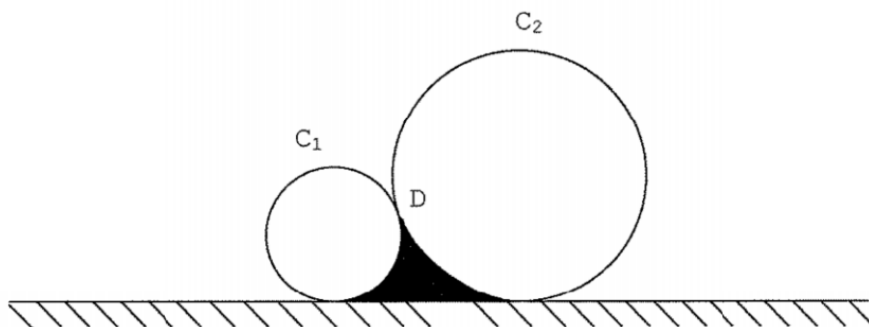
(B)  $\left]0, \frac{1}{3}\right[$

(C)  $\left]\frac{1}{3}, \frac{1}{2}\right[$

(D)  $\left[1, \frac{3}{2}\right[$

(E)  $\left]\frac{3}{2}, 2\right]$

10) Sejam  $C_1$  e  $C_2$  dois círculos de raios 1cm e 3cm, respectivamente, apoiados em uma reta horizontal e tangentes no ponto D, conforme a figura



O raio do círculo  $C_3$  cuja área coincide, numericamente, com o perímetro da região em negrito é, em cm,

(A)  $\sqrt{\frac{5}{3} + \frac{2\sqrt{3}}{\pi}}$

(B)  $\sqrt{\frac{5}{3} + \frac{4}{\pi}}$

(C)  $\sqrt{5 + \frac{6\sqrt{3}}{\pi}}$

(D)  $\sqrt{\frac{5\pi}{3} + 2\sqrt{3}}$

(E)  $\sqrt{\frac{5}{3} + 2\sqrt{3}\pi}$

11) Na discussão do sistema

$$\begin{cases} \frac{1}{x} - \frac{2}{y} + \frac{1}{z} = 0 \\ \frac{a}{x} + \frac{1}{y} + \frac{2}{z} = 0 \\ \frac{3}{x} - \frac{1}{y} - \frac{4}{z} = 0 \end{cases} \quad \text{com } x, y, z \in \mathfrak{R}^*$$

concluimos que o sistema é possível e indeterminado se

- (A)  $a = \frac{3}{19}$
- (B)  $a \neq \frac{-17}{9}$
- (C)  $a \neq \frac{3}{19}$
- (D)  $a = \frac{-17}{9}$
- (E)  $a \neq \frac{-17}{11}$

12) Para que o resto da divisão do polinômio  $P(x) = 8m^3x^4 + 12mx^3 + 1$  por  $Q(x) = 4x + 2$  seja maior que zero, deve-se ter

- (A)  $-3 < m < -2$
- (B)  $m > 1$
- (C)  $m > -2$
- (D)  $m < 1$  ou  $m > 2$
- (E)  $m < 2$



13) Um depósito de óleo diesel existente em uma das Organizações Militares da MB tem a forma de um prisma hexagonal regular com altura de 2 metros. Sabendo-se que o comprimento da diagonal maior do depósito vale  $\frac{2\sqrt{30}}{9}$  do comprimento da diagonal menor da base, pode-se dizer que o valor da função  $f$ , definida por  $f(x) = 2x^{-\frac{1}{3}}$  no número  $V$  representante do volume do depósito vale

(A)  $2\frac{\sqrt[3]{3}}{9}$

(B)  $2\frac{\sqrt{3}}{9}$

(C)  $2\frac{\sqrt[3]{243}}{9}$

(D)  $2\frac{\sqrt[3]{243}}{5}$

(E)  $2\frac{\sqrt[3]{243}}{3}$

14) Uma das raízes da equação  $z^4 = -8 + 8\sqrt{3}i$  também é raiz da equação

(A)  $x^2 + 2\sqrt{3}x + 4 = 0$

(B)  $x^2 + 3 = 0$

(C)  $x^2 - 2\sqrt{3}x + 6 = 0$

(D)  $x^2 - 4\sqrt{3}x + 16 = 0$

(E)  $x^2 + 4\sqrt{3}x + 13 = 0$

15) O simétrico do ponto  $M=(3,4)$  em relação à reta que une os pontos  $A=(-1,3)$  e  $B=(4,-2)$  pertence à curva cuja equação é

(A)  $x^2 + 2y^2 = 5$

(B)  $y = x^2 + 1$

(C)  $\frac{x^2}{4} + y^2 = 2$

(D)  $\frac{x^2}{2} - \frac{y^2}{4} = 1$

(E)  $x^2 - y^2 = 4$

16) Sejam  $f$  e  $g$  funções reais de variável real. Se

$$f(x) = \begin{cases} \frac{\sqrt{x} - \sqrt{7}}{\sqrt{x^2 + 15} - 8} & \text{se } x \neq 7 \\ a & \text{se } x = 7 \end{cases}$$

é contínua em  $x = 7$  e  $g(x) = \ln^2\left(2x + \frac{6}{7}\right)$ , pode-se afirmar que  $g'(\sqrt{7}a)$  vale

(A) 0

(B)  $\ln 2$

(C) 1

(D)  $\ln 4$

(E) 2

17) Em uma pirâmide regular, de base hexagonal, o apótema da base mede 1cm. Se a altura da pirâmide mede o dobro da medida da diagonal de um cubo de  $8\text{cm}^3$  de volume, então a razão entre a área lateral da pirâmide e a área total do cubo vale

(A)  $\frac{3\sqrt{3}}{16}$

(B)  $\frac{7\sqrt{3}}{12}$

(C)  $\frac{5\sqrt{3}}{6}$

(D)  $\frac{13\sqrt{3}}{12}$

(E)  $2\sqrt{3}$

18) No intervalo  $[0, \pi]$  a equação  $\text{sen}^4 x + \text{cos}^4 x = \frac{5}{8}$  possui soma dos inversos das raízes igual à

(A)  $\frac{15}{2\pi}$

(B)  $\frac{117}{10\pi}$

(C)  $\frac{15}{\pi}$

(D)  $2\pi$

(E)  $\frac{117}{5\pi}$

19) Seja  $L$  a reta tangente ao gráfico da função real, de variável real,  $Y(x) = e^{\left(\frac{x-\pi}{2}\right)^3} \cos\left(\frac{3\pi}{4} - 2x\right)$  no ponto  $\left(\frac{\pi}{2}, \frac{\sqrt{2}}{2}\right)$ . Se  $P$  e  $Q$  são os pontos de interseção de  $L$  com os eixos coordenados, a medida da área do triângulo de vértices  $P$ ,  $Q$  e  $(0,0)$  é

(A)  $\frac{\sqrt{2} \pi (\pi + 1)}{2}$

(B)  $\frac{\sqrt{2} (\pi + 1)^2}{8}$

(C)  $\frac{\sqrt{2}}{4} \left(\frac{\pi}{2} + 1\right)^2$

(D)  $\frac{\sqrt{2} (\pi - 1)^2}{4}$

(E)  $\frac{\sqrt{2}}{2} \left(\frac{\pi}{2} + 2\right)^2$

20) Sejam  $f$  e  $g$  duas funções reais e deriváveis tais que  $f'(x) = \text{sen}(\cos \sqrt{x})$  e  $g(x) = f(x^2)$ ,  $x \in \mathfrak{R}_+^*$ . Pode-se afirmar que  $g'(x^2)$  é igual à

(A)  $2x \text{sen}(\cos x^2)$

(B)  $2x^2 \cos(\cos x^2)$

(C)  $2x^2 \text{sen}(\cos x^2)$

(D)  $2x \cos(\cos x)$

(E)  $2x^2 \text{sen}(\cos x)$

Escola Naval – Gabarito Comentado PSAEN 2006 - PROVA ROSA  
Elaborado por alunos do ITA: Caio Guimarães, Ishai Elarrat, Felipe Moraes

---

1. Seja  $x = \text{base} - d_1 - d_2$ .

Da figura:

$$\begin{cases} x = h \cdot \text{ctg}\beta \\ x + d_1 = h \cdot \text{ctg}\alpha \end{cases} \Rightarrow d_1 = h \cdot (\text{ctg}\alpha - \text{ctg}\beta) \Rightarrow h = \frac{d_1}{(\text{ctg}\alpha - \text{ctg}\beta)}$$

$$S = \frac{d_2 \cdot h}{2} \Rightarrow S = \frac{d_1 \cdot d_2}{2(\text{ctg}\alpha - \text{ctg}\beta)} \quad (\text{Opção E})$$

---

2. Comentário: Nessa questão, faltou ser indicado que o desenvolvimento do binômio em questão deveria ser considerado desenvolvido segundo a ordem dos termos decrescentes das potências de  $x$ .

$$T_1 = C(n,0) \cdot (x^{2n})$$

$$T_2 = C(n,1) \cdot (x^{2n-1}) \cdot \left(\frac{1}{2x}\right)^1 = \frac{n}{2} \cdot x^{2n-2}$$

$$T_3 = C(n,2) \cdot (x^{2n-2}) \cdot \left(\frac{1}{2x}\right)^2 = \frac{n(n-1)}{8} \cdot (x^{2n-4})$$

Como os termos estão em PA:

$$\text{Termo}_3 + \text{Termo}_1 = 2\text{Termo}_2 \Rightarrow \frac{n(n-1)}{8} + 1 = n \Rightarrow n(n-1) = 8 \cdot (n-1) \Rightarrow n = 1, n = 8$$

Como  $n=1$  nos dá somente 2 termos no desenvolvimento,  $n=8$

$$\left(\frac{8}{2}\right) - 1 = \text{razão} \Rightarrow a_{11} = a_1 + 10 \cdot r = 1 + 10 \cdot 3 = 31 \quad (\text{Opção C})$$

---

3.

i)  $f(-x) = -x + 2 \cdot \arctg(-x) = -x - 2 \cdot \arctg(x) = -(x + \arctg x) = -f(x)$ . Logo  $f$  é uma função ímpar.

Com isso temos que  $f$  deverá ser simétrica em relação à origem.

ii)  $f'(x) = 1 + \frac{2}{1+x^2} > 0, \forall x \Rightarrow f$  é estritamente crescente em todo seu domínio

$$\text{iii) } f''(x) = \frac{-4x}{(1+x^2)^2} \Rightarrow \begin{cases} f''(x) < 0 \Leftrightarrow x > 0 \\ f''(x) > 0 \Leftrightarrow x < 0 \end{cases}$$

Logo antes do 0,  $f$  tem concavidade pra cima, e depois para baixo

De (i), (ii) e (iii) concluímos que o gráfico tem o esboço de : (Opção A)

---

---

4. W é um vetor normal a U e V, logo é um vetor paralelo ao produto vetorial  $u \times v$ . Para t real temos:

$$\vec{u} \times \vec{v} = \begin{vmatrix} i & j & k \\ -1 & 1 & 1 \\ 0 & -1 & -1 \end{vmatrix} = (-i + k + i - j) \cdot t = (0, -t, t)$$

Achando os vetores unitários paralelos ao produto vetorial (lembrando que  $-t > 0$ ):

$$\sqrt{0^2 + (-t)^2 + t^2} = \sqrt{2} \cdot |t| = 1 \Rightarrow t = -\frac{1}{\sqrt{2}}$$

$$\begin{aligned} \cos T &= \frac{(\sqrt{2}\vec{w} + \vec{u}) \cdot (-\vec{v})}{|\sqrt{2}\vec{w} + \vec{u}| \cdot |-\vec{v}|} \\ &= \frac{[(0, 1, -1) + (-1, 1, 1)] \cdot [(0, 1, 1)]}{|(0, 1, -1) + (-1, 1, 1)| \cdot |[0, -1, -1]|} = \frac{(-1, 2, 0) \cdot (0, 1, 1)}{\sqrt{5} \cdot \sqrt{2}} = \frac{2}{\sqrt{5} \cdot \sqrt{2}} = \sqrt{\frac{2}{5}} \end{aligned}$$

Logo,

$$\text{sen} T = \sqrt{1 - \left(\frac{\sqrt{2}}{\sqrt{5}}\right)^2} = \sqrt{\frac{3}{5}} \Rightarrow \csc(2T) = \frac{1}{2 \cdot \text{sen} T \cdot \cos T} = \frac{5}{2\sqrt{2}\sqrt{3}} = \frac{5\sqrt{6}}{12}$$

(Opção B)

---

5.  $8y = \frac{x^6 + 2}{x^2} = x^4 + \frac{2}{x^2} \Rightarrow 8 \cdot \left(\frac{dy}{dx}\right) = 4x^3 - \frac{4}{x^3} \Rightarrow \left(\frac{dy}{dx}\right) = \frac{1}{2} \left(x^3 - \frac{1}{x^3}\right)$

Fazendo  $u = x^3$ , temos que  $dx = du / (3x^2)$

$$\begin{aligned} \int x^2 \sqrt{1 + \left(\frac{1}{2} \left(x - \frac{1}{x^3}\right)\right)^2} dx &= \int x^2 \sqrt{\frac{4 + x^6 - 2 + x^{-6}}{4}} dx \\ &= \int \frac{du}{3} \cdot \frac{1}{2} \sqrt{u^2 + 2 + \frac{1}{u^2}} = \frac{1}{6} \int du \cdot \sqrt{\left(u + \frac{1}{u}\right)^2} = \frac{1}{6} \int |(u + u^{-1})| \cdot du = -\frac{u^2}{12} - \frac{\ln|u|}{6} + C \end{aligned}$$

Substituindo novamente na variável x:

$$= -\frac{x^6}{12} - \frac{\ln|x|}{6} + C \quad (\text{Opção D})$$


---

---


$$6. V = \pi \cdot r^2 h = 1 \Rightarrow h = \frac{1}{\pi \cdot r^2}$$

Seja  $f(r)$  a função na variável positiva  $r$  que nos dê o gasto em função do tamanho do raio do cilindro.

$$\begin{aligned} f(r) &= 1000 \cdot (\pi \cdot r^2) + 2000 \cdot (\pi \cdot r^2) + 1000 \cdot (2\pi \cdot r \cdot h) \\ &= 3000 \cdot (\pi \cdot r^2) + 2000 \cdot (\pi \cdot r \cdot \frac{1}{\pi \cdot r^2}) = 3000 \cdot (\pi \cdot r^2) + 2000 \cdot r^{-1} \end{aligned}$$

$$\Rightarrow f'(r) = 6000 \cdot (\pi \cdot r) - \frac{2000}{r^2} = 0 \Leftrightarrow r = \frac{1}{\sqrt[3]{3\pi}}$$

Discussão do sinal da 1ª derivada:

$$\begin{cases} r > \frac{1}{\sqrt[3]{3\pi}} \Rightarrow f'(r) > 0 \\ r < \frac{1}{\sqrt[3]{3\pi}} \Rightarrow f'(r) < 0 \end{cases} \Rightarrow r = \frac{1}{\sqrt[3]{3\pi}} \text{ é um ponto de mínimo pois } f(r) \text{ é derivável pra todo } r$$

$$\text{Temos que } h = \frac{1}{\pi \cdot r^2} \Rightarrow h = \sqrt[3]{\frac{9}{\pi}}$$

Considerando que as dimensões pedidas são raio e altura, a opção correta é : (Opção D)

---

$$7. \int \frac{e^{2x}}{1+e^{4x}} dx = I \quad \text{Fazendo } u = e^{2x} \Rightarrow du = 2e^{2x} \cdot dx$$

$$\begin{aligned} I &= \int \frac{e^{2x}}{1+u^2} \cdot \frac{du}{2 \cdot e^{2x}} = \frac{1}{2} \int \frac{du}{1+u^2} = \frac{1}{2} \cdot \text{Arc tan}(u) + C = \frac{1}{2} \cdot \text{Arc tan}(e^{2x}) + C \\ &= \frac{1}{2} \cdot \text{Arccot}(e^{-2x}) + C = -\frac{1}{2} \cdot \text{Arccot}(e^{2x}) + C \quad (\text{Opção E}) \end{aligned}$$


---

8.

$$\begin{cases} x < -1 \Rightarrow \begin{cases} |x+1| = -x-1 \\ |1-2x| = 1-2x \\ |2x-3| = 3-2x \end{cases} \\ -1 \leq x < \frac{1}{2} \Rightarrow \begin{cases} |x+1| = x+1 \\ |1-2x| = 1-2x \\ |2x-3| = 3-2x \end{cases} \end{cases} \quad \begin{cases} \frac{1}{2} \leq x < \frac{3}{2} \Rightarrow \begin{cases} |x+1| = x+1 \\ |1-2x| = 2x-1 \\ |2x-3| = 3-2x \end{cases} \\ x \geq \frac{3}{2} \Rightarrow \begin{cases} |x+1| = x+1 \\ |1-2x| = 2x-1 \\ |2x-3| = 2x-3 \end{cases} \end{cases}$$

$$i) \quad x < -1 \Rightarrow \begin{cases} |1 - 2x| + |x + 1| - |2x - 3| > 2 \Leftrightarrow \\ 1 - 2x - x - 1 - 3 + 2x > 2 \Leftrightarrow \\ x < -5 \end{cases}$$

$$ii) \quad -1 \leq x < \frac{1}{2} \Rightarrow \begin{cases} |1 - 2x| + |x + 1| - |2x - 3| > 2 \Leftrightarrow \\ 1 - 2x + x + 1 - 3 + 2x > 2 \Leftrightarrow \\ x > 3 \end{cases}$$

Não existe x nesse intervalo que satisfaça a condição inicial

$$iii) \quad \frac{1}{2} \leq x < \frac{3}{2} \Rightarrow \begin{cases} |1 - 2x| + |x + 1| - |2x - 3| > 2 \Leftrightarrow \\ 2x - 1 + x + 1 - 3 + 2x > 2 \Leftrightarrow \\ 5x > 5 \Leftrightarrow \frac{3}{2} > x > 1 \end{cases}$$

$$iv) \quad \frac{3}{2} \leq x \Rightarrow \begin{cases} |1 - 2x| + |x + 1| - |2x - 3| > 2 \Leftrightarrow \\ 1 - 2x + x + 1 - 2x + 3 > 2 \Leftrightarrow \\ -3x > -3 \Leftrightarrow x > 1 \Rightarrow x \geq \frac{3}{2} \end{cases}$$

Fazendo a intersecção, temos:  $x \in (-\infty, -5) \cup (1, +\infty)$  (opção E)

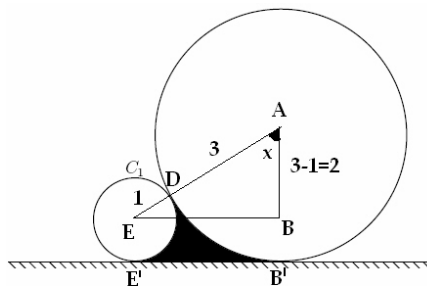
9. A função f está definida para todo x que atende à condição:

$$\frac{9}{16} - \left(\frac{4}{3}\right)^{1-x} > 0 \Leftrightarrow \left(\frac{4}{3}\right)^{-2} > \left(\frac{4}{3}\right)^{1-x} \Leftrightarrow -2 > 1 - x \Leftrightarrow x > 3$$

Como x é o menor inteiro que atende a essa condição,  $x=4$

$$\log_4 2\sqrt{2\sqrt{2}} = \frac{1}{2} \log_2 2^{1+1/2+1/4} = \frac{7}{8} \text{ que pertence ao intervalo } [1/2, 1] \text{ (opção A)}$$

10.



$$\begin{cases} \cos x = \frac{1}{2} \\ 0 < x < \frac{\pi}{2} \end{cases} \Rightarrow x = 60^\circ \Rightarrow \begin{cases} \text{arco}B'D = \frac{2\pi \cdot 3}{6} = \pi \\ \text{arco}E'D = \frac{2\pi \cdot 1}{3} \\ EB = \sqrt{4^2 - 2^2} = 2\sqrt{3} \end{cases}$$

$$S_{C_3} = \pi + \frac{2\pi}{3} + 2\sqrt{3} = \frac{5\pi}{3} + 2\sqrt{3} = \pi \cdot R^2$$

$$\Rightarrow R_{C_3} = \sqrt{\frac{5}{3} + \frac{2\sqrt{3}}{\pi}}$$

(Opção A)



11. Substituindo  $x' = 1/x$ ,  $y' = 1/y$ ,  $z' = 1/y$ . O sistema será Possível e Indeterminado quando o novo sistema também for.

$$\begin{cases} x' - 2y' + z' = 0 \\ ax' + y' + 2z' = 0 \\ 3x' - y' - 4z' = 0 \end{cases} \quad \text{Sistema Homogêneo} \Rightarrow \text{P. Indeterminado} \Leftrightarrow \text{Det. Principal} = 0$$

$$\begin{vmatrix} 1 & -2 & 1 \\ a & 1 & 2 \\ 3 & -1 & -4 \end{vmatrix} = 0 \Leftrightarrow -4 - 12 - a - 3 + 2 - 8a = 0 \Leftrightarrow -9a = 17 \Leftrightarrow a = -\frac{17}{9}$$

(Opção D)

\*\* OBS: Esse é um sistema homogêneo não linear, portanto existe a possibilidade desse sistema ser impossível, já que não admite a solução trivial  $(x,y,z)=(0,0,0)$

12. O Resto de  $P(x)$  na divisão por  $4x^2 + 2$  é dado por  $P(-1/2)$  - (D' Alembert)

$$P\left(-\frac{1}{2}\right) = 8m^3 \cdot \left(-\frac{1}{2}\right)^4 + 12m \cdot \left(-\frac{1}{2}\right)^3 + 1 = \frac{1}{2}(m^3 - 3m + 2)$$

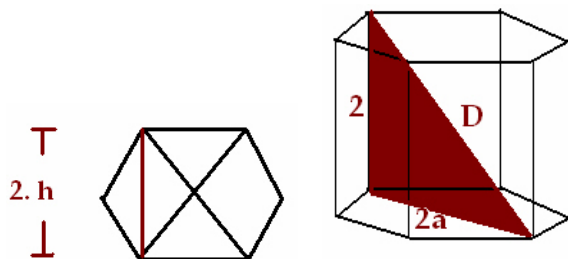
$$P\left(-\frac{1}{2}\right) = \frac{1}{2}(m-1)^2(m+2) > 0 \Leftrightarrow m > -2, m \neq 1$$

Logo o resto é positivo, se e somente se  $m$  é tal que :  $m \in ]-2, 1[ \cup ]1, +\infty[$

(Não há resposta)

\*\* OBS: A questão deverá ser anulada, pois não apresenta a condição que  $m$  deve obedecer para que o resto seja positiva, como pede o enunciado.

13.



(Opção C)

$h$  é a altura do triângulo equilátero de lado  $a$  (onde  $a$  é a aresta da base do prisma

$$\Rightarrow d = 2h$$

$$D = \frac{2\sqrt{30}}{9} \cdot d = \frac{2\sqrt{30}}{9} \cdot \left(2 \cdot \frac{a\sqrt{3}}{2}\right) \Rightarrow D = \frac{2a\sqrt{10}}{3}$$

$$D^2 = 2^2 + 4a^2 \Rightarrow \frac{4a^2 \cdot 10}{9} = 4 + 4a^2 \Rightarrow a = 3$$

Portanto:

$$V = 6 \cdot \frac{a^2\sqrt{3}}{4} \cdot 2 = 27\sqrt{3} = 3^{7/2}$$

$$\Rightarrow f(v) = 2 \cdot (V)^{-1/3} = 2 \cdot \frac{1}{3^{7/6}} = \frac{2}{3^{2-(5/6)}} = \frac{2 \cdot (243)^{1/6}}{9}$$

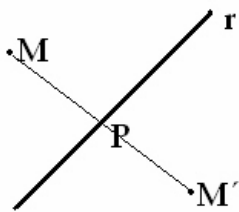
$$14. z^4 = -8 + 8\sqrt{3}i = 16 \cdot \text{cis} \left( \frac{2\pi}{3} \right) \Leftrightarrow \begin{cases} |z| = 2 \\ 4 \arg(z) = \frac{2\pi}{3} + 2k \cdot \pi, k \in \mathbb{Z} \end{cases}$$

Como as equações possuem coeficientes reais, sabemos que o conjugado de  $z$  deverá ser a 2ª raiz da equação. O produto das raízes, que por Girard é  $(c/a)$ , vale  $z \cdot \bar{z} = |z|^2 = 2^2 = 4$

Portanto, a única equação possível será a que o termo independente é 4. (Opção A)

\*\*OBS: Poderíamos ter encontrado o  $Z$  dado o sistema, montado e verificado que era raiz da equação da opção A

15.



Seja  $r$  a reta de simetria.

$$r: \frac{(y - Y_a)}{(x - X_a)} = \frac{\Delta y}{\Delta x} = \frac{(3 - (-2))}{-1 - 4} = -1 \Rightarrow r: y + x = 2$$

O ponto  $P$  pode ser parametrizado  $P = (t, 2-t)$ , tomando o vetor de extremos  $M$  e  $P = M - P = (3-t, 2+t)$ , temos que esse vetor deverá ser paralelo ao vetor  $(1, 1)$ , vetor normal de  $r$ .

De onde tiramos que  $3-t = 2+t \Rightarrow t = \frac{1}{2}$

$$2P = M + M' \Rightarrow M' = 2P - M = (1, 3) - (3, 4) = (-2, -1)$$

$$M' \text{ atende à equação: } \frac{x^2}{4} + y^2 = 2 \quad (\text{Opção C})$$

16. Pela definição de continuidade no ponto  $x=7$ , temos que:

$$\lim_{x \rightarrow 7} f(x) = a \Rightarrow \lim_{x \rightarrow 7} \frac{\sqrt{x} - \sqrt{7}}{\sqrt{x^2 + 15} - 8} = a$$

Aplicando L'Hospital:

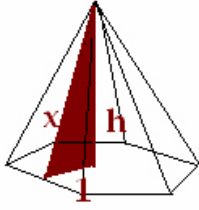
$$\lim_{x \rightarrow 7} \frac{\sqrt{x} - \sqrt{7}}{\sqrt{x^2 + 15} - 8} = \lim_{x \rightarrow 7} \frac{\frac{1}{2\sqrt{x}}}{\frac{2x}{2\sqrt{x^2 + 15}}} = \lim_{x \rightarrow 7} \frac{\sqrt{x^2 + 15}}{2x\sqrt{x}} = \frac{4}{7\sqrt{7}} = a$$

Derivando  $g(x)$ :

$$g'(x) = 2 \ln \left( 2x + \frac{6}{7} \right) \cdot \frac{2}{\left( 2x + \frac{6}{7} \right)} \quad (\text{Opção D})$$

$$\Rightarrow g'(\sqrt{7}a) = 4 \ln \left( \frac{8}{7} + \frac{6}{7} \right) \cdot \frac{1}{\left( \frac{8}{7} + \frac{6}{7} \right)} = 2 \ln 2 = \ln 4$$

17.



Seja L a aresta da base e "a" a aresta do cubo.

$$\frac{L\sqrt{3}}{2} = 1$$

$$\begin{cases} h = 2.a.\sqrt{3} \\ a^3 = 8 \end{cases} \Rightarrow h = 4\sqrt{3} \Rightarrow x^2 = h^2 + 1 \Rightarrow x = 7$$

$$\begin{cases} A_{\text{lat-piramide}} = \frac{6.L.x}{2} = 3.\frac{2}{3}\sqrt{3}.7 = 14.\sqrt{3}\text{cm}^2 \\ A_{\text{cubo}} = 6.a^2 = 24\text{cm}^2 \end{cases}$$

$$\text{Razão} = \frac{14\sqrt{3}}{24} = \frac{7\sqrt{3}}{12} \quad (\text{Opção B})$$

$$18. (\sin^2 x + \cos^2 x) = 1 \Rightarrow (\sin^2 x + \cos^2 x)^2 = 1$$

$$\Rightarrow \sin^4 x + \cos^4 x + 2(\sin x \cdot \cos x)^2 = 1$$

$$\Rightarrow \frac{5}{8} + 2\left(\frac{\sin 2x}{2}\right)^2 = 1 \Rightarrow \sin 2x = \pm \frac{\sqrt{3}}{2}$$

Como  $0 < x < \pi \Rightarrow 0 < 2x < 2\pi$  e portanto as soluções admitidas serão:

$$2x = \{ \pi/3, 2\pi/3, 4\pi/3, 5\pi/3 \} . \text{ Logo } x = \{ \pi/6, \pi/3, 2\pi/3, 5\pi/6 \}$$

Soma dos inversos:  $6/\pi + 3/\pi + 3/(2\pi) + 6/(5\pi) = (90 + 15 + 12)/(10\pi) = 117/(10\pi)$

(Opção B)

$$19. y'(x) = \left( e^{(x-\pi/2)^3} \right)' \cdot 3 \left( x - \frac{\pi}{2} \right)^2 \cdot \cos \left( \frac{3\pi}{4} - 2x \right) + 2 \left( e^{(x-\pi/2)^3} \right) \cdot \left( -\sin \left( \frac{3\pi}{4} - 2x \right) \right)$$

$$= \left( e^{(x-\pi/2)^3} \right)' \cdot \left[ 3 \left( x - \frac{\pi}{2} \right)^2 \cdot \cos \left( \frac{3\pi}{4} - 2x \right) + 2 \sin \left( \frac{3\pi}{4} - 2x \right) \right]$$

$$y \left( \frac{\pi}{2} \right) = (-\sqrt{2}) \Rightarrow L: \left( y - \frac{\sqrt{2}}{2} \right) = (-\sqrt{2}) \left( x - \frac{\pi}{2} \right)$$

Achando os pontos P e Q :

$$\begin{cases} x = 0 \Rightarrow P = \left( 0, \frac{\sqrt{2}}{2}(\pi + 1) \right) \\ y = 0 \Rightarrow Q = \left( \frac{1 + \pi}{2}, 0 \right) \end{cases} \Rightarrow S = \frac{\frac{\sqrt{2}}{2}(\pi + 1) \cdot \frac{1 + \pi}{2}}{2} = \frac{\sqrt{2}(\pi + 1)^2}{8} \quad (\text{Opção B})$$

20.

$$g(x) = f(x^2) \Rightarrow g'(x) = f'(x^2) \cdot 2x = 2x \cdot \text{sen}(\cos \sqrt{x^2}) = 2x \cdot \text{sen}(\cos |x|)$$

$$x > 0 \Rightarrow g'(x) = 2x \cdot \text{sen}(\cos x)$$

$$g'(x^2) = 2 \cdot x^2 \cdot \text{sen}(\cos(x^2))$$

(Opção C)