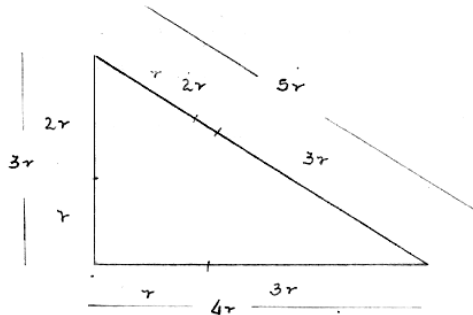


1. O domínio da função $y = \frac{-32x}{\sqrt{\left(\frac{1}{3}\right)^x - 243}}$ é

- A) $(-\infty, -5)$ $\left(\frac{1}{3}\right)^x - 243 > 0$
 B) $(-\infty, 5)$ $3^{-x} > 243 = 3^5$
 C) $(-5, \infty)$ $-x > 5$
 D) $(5, \infty)$ $x < -5$
 E) $(-5, 5)$

2. Três circunferências de raios r , $2r$ e $3r$ são tais que, cada uma delas tangencia exteriormente as outras duas. O triângulo, cujos vértices são os centros dessas circunferências, tem área

- A) r^2
 B) $\frac{\sqrt{3}}{2} r^2$
 C) $4 r^2$
 D) $6 r^2$
 E) $12 r^2$



S. $\frac{1}{2} \cdot 3r \cdot 4r = 6r^2$

3. Os vetores \vec{u} e \vec{v} são tais que $|\vec{u} + \vec{v}| = 10$ e $|\vec{u} - \vec{v}| = 4$. O produto escalar $\vec{u} \cdot \vec{v}$ vale

- A) -1 $|\vec{u} + \vec{v}|^2 = (\vec{u} + \vec{v}) \cdot (\vec{u} + \vec{v}) = |\vec{u}|^2 + |\vec{v}|^2 + 2\vec{u} \cdot \vec{v} = 100$
 B) $2\sqrt{5}$ $|\vec{u} - \vec{v}|^2 = (\vec{u} - \vec{v}) \cdot (\vec{u} - \vec{v}) = |\vec{u}|^2 + |\vec{v}|^2 - 2\vec{u} \cdot \vec{v} = 16$
 C) 21
 D) 29 $(-)$ $4\vec{u} \cdot \vec{v} = 84$
 E) 40 $\vec{u} \cdot \vec{v} = 21$

4. A negação da proposição " $x \neq 3$ e $y < 2$ " é

- A) " $x = 3$ e $y \geq 2$ "
- B) " $x = 3$ e $y > 2$ "
- ~~C) " $x = 3$ ou $y \geq 2$ "~~
- D) " $x \neq 2$ e $y < 3$ "
- E) " $x \neq 3$ ou $y < 2$ "

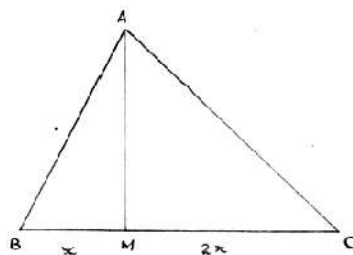
5. O número de soluções da equação $\cos^2(x + \pi) + \cos^2(x - \pi) = 1$, no intervalo $[0, 2\pi)$, é igual a $(-\cos x)^2$ $(-\cos x)^2$

- A) 1 $\rightarrow 2\cos^2 x = 1 \rightarrow \cos^2 x = \frac{1}{2}$
- B) 2 $\cos x = \pm \frac{\sqrt{2}}{2}$
- C) 3 $\rightarrow x = k\pi \pm \frac{\pi}{4} \quad (k \in \mathbb{Z})$
- D) 4
- E) 5 $0 \leq x < 2\pi \rightarrow x \in \left\{ \frac{\pi}{4}, \frac{3\pi}{4}, \frac{5\pi}{4}, \frac{7\pi}{4} \right\}$

6. ABC é um triângulo e M é um ponto sobre o lado BC, tal que $\overline{MC} = 2 \overline{BM}$.

A razão entre as áreas dos triângulos ABC e MAC é

- A) 4
- B) 3
- C) 2
- D) $\frac{9}{4}$
- E) $\frac{3}{2}$



$$\frac{S_{ABC}}{S_{MAC}} = \frac{BC}{MC} = \frac{3x}{2x} = \frac{3}{2}$$

7. $2x^4 - x^3 + mx^2 + 2n$ é divisível por $x^2 - x - 2$.

O valor de $m \cdot n$ é

A) -8

B) -10

C) -12

~~D) -14~~

E) -16

$$P(x) = 2x^4 - x^3 + mx^2 + 2n$$

$$D(x) = x^2 - x - 2 \rightarrow (x-2)(x+1)$$

$$P(2) = 0 \rightarrow 32 - 8 + 4m + 2n = 0$$

$$2m + n = -12$$

$$P(-1) = 0 \rightarrow 2 + 1 + m + 2n = 0$$

$$m + 2n = -3$$

$$2(1) - (2) = 3m = -21 \quad m = -7 \quad e \quad n = 2$$

8. Os lados de um paralelogramo medem 4 cm e 6 cm e uma de suas diagonais mede 8 cm. O comprimento da outra diagonal é

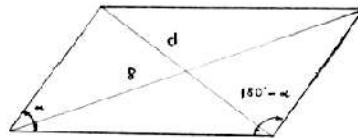
~~A) $2\sqrt{10}$ cm~~

B) 8 cm

C) 10 cm

D) $10\sqrt{2}$ cm

E) $2\sqrt{42}$ cm



$$(+)- d^2 + 64 = 2 \times 52$$

$$\rightarrow d^2 = 40$$

$$d = 2\sqrt{10}$$

$$d^2 = 36 + 16 - 2 \times 6 \times 4 \cos \alpha$$

$$64 = 36 + 16 - 2 \times 6 \times 4 \cos (180 - \alpha)$$

$$-\cos \alpha$$

9. O sistema de equações

$$\begin{cases} mx + y = 2 \\ x - y = m \\ x + y = 2 \end{cases} \text{ é impossível se e somente se}$$

A) $m = 1$

B) $m = -2$

C) $m = 1$ ou $m = -2$

D) $m \neq -2$

~~E) $m \neq 1$ e $m \neq -2$~~

$$\Delta_s \begin{vmatrix} m & 1 & 2 \\ 1 & -1 & m \\ 1 & 1 & 2 \end{vmatrix} \neq 0$$

$$-2m + m + 2 - (-2 + m^2 + 2) \neq 0$$

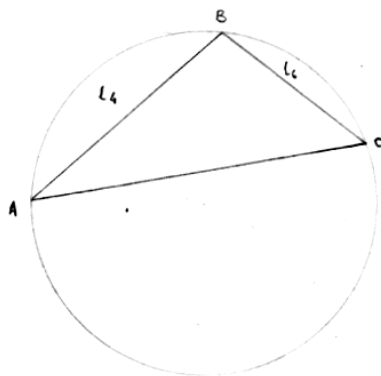
$$m^2 + m - 2 \neq 0$$

$$m \neq 2$$

$$m \neq -1$$

10. A, B e C são três pontos de uma circunferência de raio r , tais que B pertence ao menor dos arcos de extremidades A e C. \overline{AB} e \overline{BC} são iguais aos lados do quadrado e do hexágono regular inscritos na circunferência, respectivamente. A distância entre os pontos A e C é igual a

- A) r
~~B)~~ $r \sqrt{\sqrt{3} + 2}$
 C) $\frac{r}{2} (\sqrt{2} + 1)$
 D) $r \sqrt{\sqrt{5}}$
 E) $r \frac{\sqrt{3}}{2}$



$$AB = l_4 \rightarrow \widehat{AB} = 90^\circ$$

$$\rightarrow \widehat{C} = 45^\circ$$

$$BC = l_6 = r \rightarrow \widehat{BC} = 60^\circ$$

$$\rightarrow \widehat{A} = 30^\circ$$

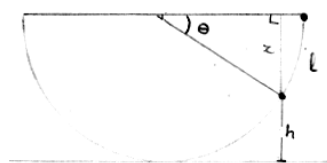
$$\rightarrow \widehat{B} = 105^\circ$$

$$\frac{AC}{\sin 105^\circ} = \frac{BC}{\sin 30^\circ} = 2r$$

$$AC = 2r \frac{\sqrt{6} + \sqrt{2}}{4} = r \frac{\sqrt{6} + \sqrt{2}}{2}$$

11. Uma tigela tem a forma de uma semi-esfera de raio 30 cm e se encontra sobre uma mesa. Uma gota d'água se encontra na borda da tigela e começa a escorrer externamente sobre ela com uma velocidade de $2,5 \pi$ cm/s. Após 2 segundos, a distância entre a gota d'água e a mesa é de

- A) $15 \sqrt{3}$ cm
~~B)~~ 15 cm
 C) 10 cm
 D) $15 \frac{\sqrt{3}}{2}$ cm
 E) $\frac{30}{\pi}$ cm



$$l = 30 \text{ e}$$

$$\frac{dl}{dt} = 30 \frac{d\theta}{dt}$$

$$\frac{2,5\pi}{30} = \frac{d\theta}{dt} = w$$

$$\rightarrow w = \frac{2,5 \pi}{30} = \frac{\pi}{12} \text{ rad s}^{-1}$$

$$t = 2 \rightarrow \theta = \frac{\pi}{6}$$

$$x = r \cos \theta = 30 \cdot \frac{1}{2} = 15 \text{ cm}$$

$$h = rx \rightarrow h = 15 \text{ cm}$$

12. O conjunto-solução da inequação $\frac{x^4 - 1}{-x^4 + 3x^3 - 2x^2} \leq 0$ é

- A) $(-\infty, -1) \cup (2, \infty)$ $\frac{(x^2-1)(x^2+1)}{-x^2(x^2-3x+2)} \leq 0$
 B) $(-\infty, -1) \cup (1, 2)$
 C) $(-\infty, -1) \cup (0, 2)$ $\frac{(x^2+1)(x+1)(x-1)}{x^2(x-2)(x-1)} \geq 0$
 D) $(-\infty, -1) \cup (1, 2)$
 E) $(-\infty, -1) \cup (-1, 0)$ $\begin{matrix} x \neq 1 \\ x \neq 0 \end{matrix} \rightarrow \frac{x+1}{x-2} \geq 0 \quad x \leq -1 \text{ ou } x \geq 2$

13. Os números de assíntotas horizontais distintas e verticais distintas da curva $y = \frac{3x}{x^2 - 2}$ são, respectivamente, iguais a

- $\lim_{x \rightarrow \pm\infty} y = 0 \quad - y = 0$ é assíntota horizontal
 $x = \pm\sqrt{2}$ assíntotas verticais
- A) 0 e 2
 B) 1 e 1
 C) 1 e 2
 D) 2 e 1
 E) 2 e 2

14. Se $\log_\alpha x = n$ e $\log_\alpha y = 5n$, então $\log_\alpha \sqrt[4]{x^3 y}$ é igual a

- A) $\frac{n}{4}$ $\frac{1}{4} \log_\alpha x^3 y$
 B) $2n$ $\frac{1}{4} \log_\alpha x^3 + \frac{1}{4} \log_\alpha y$
 C) $\frac{3n}{4}$ $\frac{3}{4} n + \frac{1}{4} \cdot 5n$
 D) $3n$ $= 2n$
 E) $\frac{5n}{4}$

15. Um poliedro convexo possui 11 faces. Sabemos que, de um de seus vértices partem 5 arestas, de 5 outros vértices partem 4 arestas e de cada vértice restante partem 3 arestas.

O número de arestas do poliedro é

- ~~A) 20~~ $v_5 = 1$
 B) 25 $v_4 = 5$
 $v_3 = ?$
- $$\left. \begin{array}{l} v_5 = 1 \\ v_4 = 5 \\ v_3 = ? \end{array} \right\} V = 6 + v_3$$
- $V + F = A + 2$
 $A = V + F - 2$
 $A = 6 + v_3 + 11 - 2$
 $A = 15 + v_3$
- C) 30 $5v_5 + 4v_4 + 3v_3 = 2A$
 D) 37 $25 + 3v_3 = 2A$
 E) 41 $25 + 3v_3 = 2(15 + v_3) \rightarrow v_3 = 5 \quad A = 20$

16. A menor distância entre um ponto da parábola $y = 1 - x^2$ e a origem é igual a

- A) 1 $d_{(p,0)}^2 = x^2 + y^2$
 B) $\frac{1}{2}$ $d_{(y)}^2 = 1 - y - y^2$
 $d_{\min}^2 = -\frac{\Delta}{4a} = \frac{1-4}{4} = -\frac{3}{4}$
 C) $\frac{1}{4}$
 D) $\frac{\sqrt{3}}{2}$
 E) $\frac{\sqrt{3}}{4}$

17. As imagens dos complexos z tais que $|z + 2\bar{z}| = 1$ formam uma

- ~~A) elipse.~~ $z = x + yi \rightarrow \bar{z} = x - yi$
 B) hipérbole. $z + 2\bar{z} = 3x - yi$
 C) parábola. $|z + 2\bar{z}| = 1$
 D) circunferência. $9x^2 + y^2 = 1$
 E) reta.

18. Se $\frac{1}{b} + \frac{1-b}{b} + \frac{(1-b)^2}{b} + \dots + \frac{(1-b)^n}{b} + \dots = \frac{1}{b^2}$,

sobre o valor de b podemos afirmar que

A) $|b| = 1$

B) $b = 4$

C) $b \geq 2$

D) $b < 0$

E) $0 < b < 2$

Ratificação: $|1-b| < 1 \Rightarrow |b-1| < 1 \rightarrow -1 < b-1 < 1 \rightarrow 0 < b < 2$

$\frac{\frac{1}{b}}{1-(1-b)} = \frac{1}{b^2} \quad \frac{\frac{1}{b}}{b} = \frac{1}{b^2} \rightarrow \forall x \in \mathbb{R}^+$

19. Um grupo de 8 jovens pretende sair para um passeio em dois carros (cada um com capacidade para 4 pessoas). Apenas 4 deles dirigem. O número de modos deles escolherem seus lugares nos dois carros é igual a

A) 10 080

B) 8 640

C) 4 320

D) 1 440

E) 720

$\frac{4}{5} \quad \frac{6}{4} \quad \frac{3}{2} \quad \frac{3}{1}$

$N = 4 \times 3 \times 6! = 8640$

20. Considere os conjuntos:

$A_k = \{ (x, y) \in \mathbb{R}^2 \mid (1+k)x + 2ky - 3 + k = 0 \}$.

Então $A_1 \cap A_2 \cap A_3 \dots$ é igual a

A) \emptyset

B) $\{ (x, y) \in \mathbb{R}^2 \mid x + y - 3 = 0 \}$

C) $\{ (x, y) \in \mathbb{R}^2 \mid x = 3 \}$

D) $\{ (0, 0) \}$

E) $\{ (3, -2) \}$

$(1+k)x + 2ky - 3 + k = 0$

$(x-3) + k(x+2y+1) = 0$

$x-3=0$

$x+2y+1=0$

$(-) \rightarrow 2y+4=0 \rightarrow y=-2$

$\rightarrow \forall k \in \mathbb{N}^+ A_k = \{(3, -2)\}$

21. Se $\frac{\sin x - \sin y}{\cos x - \cos y} = 2$ e $\operatorname{tg} x = \frac{1}{3}$, então $\operatorname{tg} y$ é igual a

- A) 3 $\frac{2 \frac{\sin \frac{x-y}{2} \cos \frac{x+y}{2}}{2} = 2 \quad \operatorname{tg} \frac{x+y}{2} = -\frac{1}{2}$
- B) $\frac{1}{6}$ $\frac{-2 \frac{\sin \frac{x+y}{2} \cos \frac{x-y}{2}}{2} = -2 \operatorname{tg} \frac{x+y}{2} = 1$
- C) 0 $\operatorname{tg}(x+y) = \frac{2 \cdot \left(-\frac{1}{2}\right)}{1 - \left(-\frac{1}{2}\right)} = \frac{-1}{\frac{3}{2}} = -\frac{2}{3}$
- D) $-\frac{1}{6}$ $y = (x+y) - x$
- E) -3 $-\operatorname{tg} y = \frac{-\frac{2}{3} - \frac{1}{3}}{1 + \left(-\frac{2}{3}\right) \cdot \frac{1}{3}} = \frac{-1}{\frac{1}{3}} = -3$

22. A equação da parábola cujo foco é o ponto (1,4) e cuja diretriz é a reta $y = 3$ é

- A) $y = x^2 - 2x + 8$ $PF = \sqrt{(x-1)^2 + (y-4)^2}$
- B) $y = -x^2 + x - 8$ $d(p,s) = |y-3|$
- C) $y = \frac{x^2}{2} - x + 4$ $PF^2 = d^2(p,s)$
- D) $y = \frac{x^2}{2} - \frac{x}{2} + 2$ $x^2 - 2x + 1 + y^2 - 8y + 16 = y^2 - 6y + 9$
- E) $x = y^2 - y + 4$ $x^2 - 2x + 8 = 2y$
- $y = \frac{x^2}{2} - x + 4$

23. O conjunto-solução de $\left| \frac{2x + 1}{x - 3} \right| > 3$ é

- A) $(8/5, 3) \cup (3, \infty)$
- B) $(3, 10) \cup (10, \infty)$
- C) $(-\infty, 8/5) \cup (3, 10)$
- ~~D) $(8/5, 3) \cup (3, 10)$~~
- E) $(8/5, 3) \cup (10, \infty)$

$$|2x + 1| > 3|x - 3|$$

$$|2x + 1| - 3|x - 3| > 0$$

$$x < -\frac{1}{2} \quad -2x - 1 + 3x - 9 > 0$$

$$\rightarrow x > 10 \rightarrow S_1 = \emptyset$$

$$-\frac{1}{2} \leq x < 3 \quad 2x + 1 + 3x - 9 > 0$$

$$5x > 8 \rightarrow S_2 = \left(\frac{8}{5}, 3\right)$$

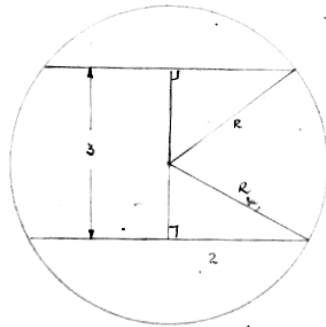
$$x > 3 \quad 2x + 1 - 3x + 9 > 0$$

$$\rightarrow -x + 10 > 0 \rightarrow S_3 = (3, 10)$$

$$S = \left(\frac{8}{5}, 3\right) \cup (3, 10)$$

24. Duas seções feitas em uma esfera, por dois planos paralelos distantes 3 cm entre si, situam-se em hemisférios diferentes e têm raios iguais a 1 cm e 2 cm. O raio da esfera é igual a

- A) $2\sqrt{2}$ cm
- B) $2\sqrt{3}$ cm
- ~~C) $\sqrt{5}$ cm~~
- D) 3 cm
- E) $3\sqrt{2}$ cm



$$R^2 = x^2 + 1 \quad (-)$$

$$R^2 = y^2 + 4 \quad \rightarrow$$

$$x^2 - y^2 = 3 \rightarrow$$

$$\frac{(x+y)(x-y)}{3} = 3$$

$$x - y = 1 \quad x = 2$$

$$R = \sqrt{5}$$

25. Se $A = \begin{bmatrix} 1 & 0 & 2 \\ -1 & 1 & 0 \\ 0 & 1 & 0 \end{bmatrix}$, $B = \begin{bmatrix} 2 & 1 \\ 1 & 1 \\ 0 & 1 \end{bmatrix}$ e $C = \begin{bmatrix} 0 & -1 & 1 \\ 2 & -1 & 0 \end{bmatrix}$,

o determinante da transposta da matriz $2A - BC$ vale

A) -4 $BC = \begin{bmatrix} 2 & -3 & 2 \\ 2 & -2 & 1 \\ 2 & -1 & 0 \end{bmatrix}$

C) 0 $2A - BC = \begin{bmatrix} 2 & 0 & 4 \\ 2 & 2 & 0 \\ 0 & 2 & 0 \end{bmatrix} - \begin{bmatrix} 2 & -3 & 2 \\ 2 & -2 & 1 \\ 2 & -1 & 0 \end{bmatrix} = \begin{bmatrix} 0 & 3 & 2 \\ -4 & 4 & -1 \\ -2 & 3 & 0 \end{bmatrix}$

D) 2

E) 4

$$\det.(2A - BC) = 0 + 6 - 24 - (-16) = -2$$